


### 3 PROMETNA SIGNALIZACIJA, POLICIST 1.DEL

#### 3.1 PROMETNI ZNAKI ZA NEVARNOST (splošni znaki, znaki na prehodih ceste čez železniško progo)

#### 3.2 PROMETNI ZNAKI ZA IZRECNE ODREDBE ( znaki za: - izrecne(splošno) in prednost ; prepovedi in omejitve; obveznosti; urejanje cestnega prometa)

Za tem prometnim znakom moram: (  Poglej lekcijo)



Pravilna sta dva odgovora ali več:

- Prilagoditi hitrost vožnje ovinku in njegovim značilnostim. ✓
- Umakniti se na bankino.
- V nevaren ovinek zapeljati zelo pazljivo. ✓
- Vkllopiti ustrezne utripalke.

Pravilen odgovor je: Prilagoditi hitrost vožnje ovinku in njegovim značilnostim., V nevaren ovinek zapeljati zelo pazljivo.

Med vožnjo moram za tem prometnim znakom: (📖 Poglej lekcijo)



Pravilna sta dva odgovora ali več:

- V nevaren ovinek zapeljati zelo pazljivo. ✓
- Zaradi boljše vidnosti zapeljati preko ločilne črte.
- Prilagoditi hitrost vožnje ovinku in njegovim značilnostim. ✓
- Zaradi boljše vidnosti zapeljati na bankino.

Pravilen odgovor je: Prilagoditi hitrost vožnje ovinku in njegovim značilnostim., V nevaren ovinek zapeljati zelo pazljivo.

Prometni znak na sliki vas opozarja na določeno nevarnost, in sicer na: (📖 Poglej lekcijo)



- Neravno vozišče.
- Nevaren vzpon.
- Bližino dveh zaporednih ovinkov, prvi na desno, ki sta zaradi svojih značilnosti nevarna. ✓
- Bližino zaporednih prevojev.

Pravilen odgovor je: Bližino dveh zaporednih ovinkov, prvi na desno, ki sta zaradi svojih značilnosti nevarna.

Označite pravilna ravnanja pri vožnji za tem prometnim znakom! (📖 Poglej lekcijo)



Pravilna sta dva odgovora ali več:

- Vožnjo in hitrost prilagodim značilnostim nevarnih ovinkov. ✓
- Zapeljem na smerno vozišče za nasprotni promet.
- Med vožnjo sem zelo pazljiv, ker so ti ovinki lahko nepregledni. ✓

Pravilen odgovor je: Vožnjo in hitrost prilagodim značilnostim nevarnih ovinkov., Med vožnjo sem zelo pazljiv, ker so ti ovinki lahko nepregledni.

Zapeljali ste mimo prikazanega prometnega znaka. Kako boste ravnali? (📖 Poglej lekcijo)

eCPP.si



Pravilna sta dva odgovora ali več:

- Upoštevam dejstvo, da je zavorna pot daljša. ✓
- Sem pozoren na zadostno varnostno razdaljo. ✓
- Vozim tako, da v glavnem zaviram z motorjem. ✓
- Menjalnik prestavim v prosti tek.

Pravilen odgovor je: Vozim tako, da v glavnem zaviram z motorjem., Sem pozoren na zadostno varnostno razdaljo., Upoštevam dejstvo, da je zavorna pot daljša.

Zapeljali ste mimo prikazanega prometnega znaka. Kaj to pomeni? (📖 Poglej lekcijo)



- Nevaren klanec navzdol se prične čez 150-250 m od postavljenega prometnega znaka.
- Nevaren vzpon se prične tik za prometnim znakom.
- Nevaren vzpon se prične čez 150-250 m od postavljenega prometnega znaka. ✓
- Nevaren vzpon se prične čez 100 m od postavljenega prometnega znaka.

Pravilen odgovor je: Nevaren vzpon se prične čez 150-250 m od postavljenega prometnega znaka.

Prikazan prometni znak pomeni: (📖 Poglej lekcijo)



- Da je od prometnega znaka naprej promet dvosmeren.
- Napoved zoženja ceste. ✓
- Napoved zoženja ceste le z desne strani.
- Napoved zoženja ceste le z leve strani.

Pravilen odgovor je: Napoved zoženja ceste.

Prikazan prometni znak z dopolnilno tablo pomeni: (📖 Poglej lekcijo)



- Da je v bližini turistična obala s plažo.
- Napoved bližine premičnega mostu na cesti. ✓
- Da vozimo po močvirnatem in neutrjenem področju.
- Da vozimo po področju, kjer je zajetje pitne vode.

Pravilen odgovor je: Napoved bližine premičnega mostu na cesti.




Prikazan prometni znak z dopolnilno tablo pomeni: (📖 Poglej lekcijo)

eCPP.si



- Da je v bližini pristaniški pomol, od koder vozijo trajekti za osebne avtomobile.
- Da je v bližini avtopralnica le za osebne avtomobile.
- Da je v bližini obala ali rečni breg. ✓

Pravilen odgovor je: Da je v bližini obala ali rečni breg.

Kaj od naštetega se lahko zgodi, če spregledate oz. ne upoštevate prikazanega prometnega znaka?  
(  Poglej lekcijo)



Pravilna sta dva odgovora ali več:

- Zaradi udara v neravnino lahko poškodujem podvozje vozila. ✓
- Izguba oblasti nad vozilom, saj lahko med vožnjo nekontrolirano zdrsne. ✓
- Zaradi udara v neravnino lahko poškodujem pnevmatike. ✓

Pravilen odgovor je: Izguba oblasti nad vozilom, saj lahko med vožnjo nekontrolirano zdrsne., Zaradi udara v neravnino lahko poškodujem pnevmatike., Zaradi udara v neravnino lahko poškodujem podvozje vozila.

Zapeljali ste mimo prikazanega prometnega znaka. Na kaj opozarja? (📖 Poglej lekcijo)



Pravilna sta dva odgovora ali več:

- Na neravnine na vozišču, zaradi katerih me lahko zanese. ✓
- Na neravnine na vozišču, zaradi katerih se lahko poškoduje podvozje vozila. ✓
- Na močan bočni veter, zaradi katerega me lahko zanese.

Pravilen odgovor je: Na neravnine na vozišču, zaradi katerih me lahko zanese., Na neravnine na vozišču, zaradi katerih se lahko poškoduje podvozje vozila.


Kaj napoveduje prikazani prometni znak?

eCPP.si



- Urejen podvoz vozišča.
- Kolesnice na vozišču.
- Hitrostno oviro oz. grbino na vozišču.
- Neravnino oz. vboklino na vozišču. ✓

Pravilen odgovor je: Neravnino oz. vboklino na vozišču.


Katera naštetá ravnanja so napačna pri vožnji za prikazanim prometnim znakom? (  Poglej lekcijo)



Pravilna sta dva odgovora ali več:

- Prilagodim hitrost vožnje stanju vozišča.
- Vozim z nezmanjšano hitrostjo dalje. ✓
- Naglo premikam krmilo oz. volan. ✓
- Naglo zaviram. ✓

Pravilen odgovor je: Vozim z nezmanjšano hitrostjo dalje., Naglo zaviram., Naglo premikam krmilo oz. volan.

Katera naštetá ravnanja so napačna pri vožnji za prikazanim prometnim znakom? (  Poglej lekcijo)



Pravilna sta dva odgovora ali več:

- Naglo premikam vozilo in naglo menjam smer vožnje. ✓
- Vozim z neprilagojeno hitrostjo. ✓
- Naglo oz. sunkovito zaviram. ✓
- Povečam previdnost pri nadaljevanju vožnje.

Pravilen odgovor je: Vozim z neprilagojeno hitrostjo., Naglo premikam vozilo in naglo menjam smer vožnje., Naglo oz. sunkovito zaviram.

Zapeljali ste mimo prikazanega prometnega znaka. Kakšno hitrost boste izbrali v nadaljevanju vožnje? (📖 Poglej lekcijo)



- Takšno, da zaradi stalne vode na vozišču, ki jo napoveduje prometni znak, ne poškopim drugih.
- Zmanjšano, saj obstaja nevarnost pršenja kamnitih zrn izpod koles. ✓
- Povečano, da čim prej prevozim nevarni del vozišča.

Pravilen odgovor je: Zmanjšano, saj obstaja nevarnost pršenja kamnitih zrn izpod koles.

Kakšno nevarnost napoveduje prikazan prometni znak? (Poglej lekcijo)

eCPP.si



- Pršenje kamnitih zrn izpod koles vozila in možnost poslabšanja nadzora nad vozilom. ✓
- Padajoče kamenje.
- Večjo količino vode na vozišču.

Pravilen odgovor je: Pršenje kamnitih zrn izpod koles vozila in možnost poslabšanja nadzora nad vozilom.



Katera so pravilna ravnanja, ko zapeljete mimo prikazanega prometnega znaka? (📖 Poglej lekcijo)



Pravilna sta dva odgovora ali več:

- Prilagodim hitrost, da lahko ustavim pred morebitnim kamenjem na vozišču. ✓
- Dam prednost tovornim vozilom, ki se iz kamnoloma vključujejo v promet.
- Sem zelo pozoren na morebitno kamenje na vozišču. ✓
- Zaradi velike količine prahu v ozračju zaprem dovod zraka v potniško kabino.


Pravilen odgovor je: Prilagodim hitrost, da lahko ustavim pred morebitnim kamenjem na vozišču.,  
Sem zelo pozoren na morebitno kamenje na vozišču.

Zapeljali ste mimo prikazanega prometnega znaka. Nevarnost padanja kamenja obstaja: (📖 Poglej lekcijo)



- Z leve strani, glede na smer vožnje.
- Z desne strani, glede na smer vožnje. ✓
- Z leve in z desne strani.

Pravilen odgovor je: Z desne strani, glede na smer vožnje.

Zapeljali boste mimo prikazanega prometnega znaka. Označite vaša pravilna ravnanja: (  Poglej lekcijo)



Pravilna sta dva odgovora ali več:

- Zelo sem previden in opazujem ravnanja otrok, če so ob vozišču. ✓
- Vozim zelo počasi - tako hitro, kot hodijo pešci.
- Vklpim desne ali leve utripalke.
- Povečam pozornost. ✓

Pravilen odgovor je: Povečam pozornost., Zelo sem previden in opazujem ravnanja otrok, če so ob vozišču.

Zapeljali ste mimo prikazanega prometnega znaka. Kaj pomeni prometni znak? (📖 Poglej lekcijo)



- Področje, kjer se pogosto zadržujejo otroci. ✓
- Hoja otrok samo v spremstvu odrasle osebe.
- Področje, ki je rezervirano za pešce.
- Čez 150-250 m je prehod za pešce, ki je namenjen izključno otrokom.

Pravilen odgovor je: Področje, kjer se pogosto zadržujejo otroci.

Zapeljali ste mimo prikazanega prometnega znaka. Kako boste ravnali? (📖 Poglej lekcijo)



- Prilagodim hitrost, da lahko po potrebi varno ustavim pred prehodom za pešce. ✓
- Z nezmanjšano hitrostjo nadaljujem vožnjo, saj je prometni znak namenjen pešcem.
- Ustavim, saj je nadaljnja vožnja z motornim vozilom prepovedana.

Pravilen odgovor je: Prilagodim hitrost, da lahko po potrebi varno ustavim pred prehodom za pešce.

Zapeljali boste mimo prikazanega prometnega znaka. Označite pravilne trditve! (📖 Poglej lekcijo)



Pravilna sta dva odgovora ali več:

- Morebitnim pešcem dajem zvočne in svetlobne opozorilne znake.
- Vozim posebno previdno in v pripravljenosti na ustavljanje. ✓
- Hitrost vožnje nekoliko zmanjšam. ✓
- Z nezmanjšano hitrostjo nadaljujem vožnjo, saj je prometni znak namenjen pešcem.

Pravilen odgovor je: Hitrost vožnje nekoliko zmanjšam., Vozim posebno previdno in v pripravljenosti na ustavljanje.

Približujete se prikazanemu prometnemu znaku. Kako se imenuje ta znak? (Poglej lekcijo)



- Območje umirjenega prometa.
- Področje za pešce.
- Prehod za pešce. ✓
- Steza in posebna pot za pešce.

Pravilen odgovor je: Prehod za pešce.

Približujete se prikazanemu prometnemu znaku. Kaj ta prometni znak označuje? (📖 Poglej lekcijo)



- Področje, kjer nekateri kolesarji vozijo po vozišču v nasprotni smeri.
- Pooblaščen servis za kolesa.
- V nadaljevanju na vozišču pričakujemo veliko rekreativnih in tekmovalnih kolesarjev.
- Bližino mesta na cesti, kjer so na vozišču pogosto kolesarji oz. prihajajo na vozišče s kolesarskih površin. ✓

Pravilen odgovor je: Bližino mesta na cesti, kjer so na vozišču pogosto kolesarji oz. prihajajo na vozišče s kolesarskih površin.



Zapeljali ste mimo prikazanega prometnega znaka. Kako boste ravnali? (📖 Poglej lekcijo)



Pravilna sta dva odgovora ali več:

- Sem pozoren tudi na okolico ob vozišču. ✓
- Izmenično vklapljam dolge žaromete.
- Prilagodim hitrost in sem zelo pozoren. ✓
- Na celotnem področju ves čas vožnje dajem svetlobne in opozorilne znake.

Pravilen odgovor je: Prilagodim hitrost in sem zelo pozoren., Sem pozoren tudi na okolico ob vozišču.

Zapeljali ste mimo prikazanega prometnega znaka. Kaj lahko pričakujete? (📖 Poglej lekcijo)

eCPP.si



Pravilna sta dva odgovora ali več:

- Nekoliko spremenjeno prometno signalizacijo oz. spremenjen prometni režim. ✓
- Razne delovne in gradbene stroje ob ali celo na vozišču. ✓
- Občinske redarje.
- Vozišče, ki je umazano. ✓

Pravilen odgovor je: Razne delovne in gradbene stroje ob ali celo na vozišču., Nekoliko spremenjeno prometno signalizacijo oz. spremenjen prometni režim., Vozišče, ki je umazano.

Zapeljali ste mimo prikazanega prometnega znaka. Kaj lahko pričakujete? (📖 Poglej lekcijo)



Pravilna sta dva odgovora ali več:

- Razne delovne in gradbene stroje ob ali celo na vozišču. ✓
- Osebe oz. delavce, ki opravljajo neka dela. ✓
- Različen gradbeni material. ✓
- Prenehanje vseh omejitev in konec nevarnosti.


Pravilen odgovor je: Osebe oz. delavce, ki opravljajo neka dela., Različen gradbeni material., Razne delovne in gradbene stroje ob ali celo na vozišču.

Kaj napoveduje prikazani prometni znak? (📖 Poglej lekcijo)



- Prehod ceste čez železniško progo.
- Semaforje – svetlobne prometne znake. ✓
- Cestninsko postajo.
- Poseben prometni pas za vožnjo brez ustavitve (ABC) na cestninski postaji.

Pravilen odgovor je: Semaforje – svetlobne prometne znake.

Zapeljali ste mimo prikazanega prometnega znaka, ko piha močan bočni veter. Kako boste ravnali?  
(  Poglej lekcijo)



Pravilna sta dva odgovora ali več:

- Mirno popravljam smer vožnje in močneje primem volan oz. krmilo. ✓
- Prilagodim – zmanjšam hitrost. ✓
- Večkrat vklopim varnostne utripalke.
- Pospešim, saj s tem čim prej prevozim nevarni odsek ceste.

Pravilen odgovor je: Prilagodim – zmanjšam hitrost., Mirno popravljam smer vožnje in močneje primem volan oz. krmilo.

Kaj napoveduje prikazani prometni znak? (  Poglej lekcijo)



Pravilna sta dva odgovora ali več:

- Nanose snega na vozišče v času zime. ✓
- Predvsem na izpostavljenih mestih nenadne in močne sunke vetra. ✓
- Ob cesti postavljeno vremensko postajo.
- Letališče.

Pravilen odgovor je: Predvsem na izpostavljenih mestih nenadne in močne sunke vetra., Nanose snega na vozišče v času zime.

Zapeljali ste mimo prikazanega prometnega znaka. Kaj lahko pričakujete? (📖 Poglej lekcijo)

eCPP.si



- Prepovedan promet v obeh smereh.
- Delo na cesti.
- Cesto s stalnim ali začasnim dvosmernim prometom. ✓
- Vozila iz nasprotne smeri, ki imajo prednost.

Pravilen odgovor je: Cesto s stalnim ali začasnim dvosmernim prometom.

Kaj napoveduje prikazani prometni znak? (📖 Poglej lekcijo)



- Del ceste z enosmernim prometom.
- Mesto, kjer mora voznik ustaviti vozilo zaradi prednosti vozil iz nasprotne smeri.
- Delo na cesti.
- Mesto, kjer prehaja enosmerna cesta v cesto, na kateri je dvosmerni promet. ✓

Pravilen odgovor je: Mesto, kjer prehaja enosmerna cesta v cesto, na kateri je dvosmerni promet.



Zapeljali ste mimo prikazanega prometnega znaka. Kaj lahko pričakujete?



Pravilna sta dva odgovora ali več:

- Turistično razgledno točko z odličnim razgledom v daljavo.
- Opuščen rudniški rov blizu ceste.
- Predor. ✓
- Galerijo ali pokrit vkop na vozišču. ✓

Pravilen odgovor je: Predor., Galerijo ali pokrit vkop na vozišču.

Zapeljali ste mimo prikazanega prometnega znaka. Kaj lahko pričakujete? (📖 Poglej lekcijo)

eCPP.si



- Prehod ceste čez železniško progo v isti ravnini.
- Prepoved prometa za motorna vozila.
- Križišče enakovrednih cest. ✓
- Križanje kolesarske steze s prednostno cesto.


Pravilen odgovor je: Križišče enakovrednih cest.

Zapeljali boste mimo prikazanega prometnega znaka. Kaj napoveduje? (📖 Poglej lekcijo)



- Križanje enakovrednih cest.
- Prehod ceste čez železniško progo v isti ravnini.
- V nadaljevanju prepoved prometa za motorna vozila.
- Križišče z neprednostno (stransko) cesto. ✓

Pravilen odgovor je: Križišče z neprednostno (stransko) cesto.

Zapeljali ste mimo prikazanega prometnega znaka. Ali morate biti posebej previdni in po potrebi zmanjšati hitrost vožnje? (  Poglej lekcijo)

eCPP.si



- Da, saj se približujem križišču z neprednostno cesto, ki se priključuje pod ostrim kotom. ✓
- Ne, saj ves čas vozim po prednostni cesti.

Pravilen odgovor je: Da, saj se približujem križišču z neprednostno cesto, ki se priključuje pod ostrim kotom.

Ali morate biti posebej previdni in pozorni, ko zapeljete mimo prikazanega prometnega znaka? (📖  
Poglej lekcijo)



- Da, saj se približujem križišču z neprednostno cesto, ki se priključuje pod ostrim kotom. ✓
- Ne, saj ves čas vozim po prednostni cesti.

Pravilen odgovor je: Da, saj se približujem križišču z neprednostno cesto, ki se priključuje pod ostrim kotom.

Prikazan prometni znak: (📖 Poglej lekcijo)



- Napoveduje prehod ceste čez železniško progo v isti ravnini.
- Napoveduje krožno križišče s kolesarsko stezo.
- Napoveduje križišče enakovrednih cest.
- Napoveduje križišče z neprednostno cesto. ✓


Pravilen odgovor je: Napoveduje križišče z neprednostno cesto.

Zapeljali boste mimo prikazanega prometnega znaka. Kaj napoveduje? (📖 Poglej lekcijo)



- Križišče z otokom za usmerjanje prometa, kjer promet poteka tudi po levi strani.
- Križišče z nevarnostjo močnega krožnega vetra.
- Semaforizirano križišče.
- Križišče s krožnim prometom. ✓

Pravilen odgovor je: Križišče s krožnim prometom.

Zapeljali boste mimo prikazanega prometnega znaka. Kako boste ravnali? (  Poglej lekcijo)



Pravilna sta dva odgovora ali več:

- Zaradi spolzkega vozišča povečam varnostno razdaljo. ✓
- Varnostno razdaljo zmanjšam na minimum.
- S čim bolj hitrimi in sunkovitimi gibi volana oz. krmila, se izogibam poledenelih delov vozišča.
- Zaradi spolzkega vozišča zmanjšam hitrost in sem zelo previden. ✓

Pravilen odgovor je: Zaradi spolzkega vozišča zmanjšam hitrost in sem zelo previden., Zaradi spolzkega vozišča povečam varnostno razdaljo.



Zapeljali ste mimo prikazanega prometnega znaka. Kaj napoveduje? (📖 Poglej lekcijo)

eCPP.si



Pravilna sta dva odgovora ali več:

- Zmanjševanje hitrosti pred mano vozečih vozil. ✓
- Prehod s ceste z enosmernim prometom na cesto z dvosmernim prometom.
- Prometni zastoj. ✓
- Parkirni prostor za plačljivo pakiranje.


Pravilen odgovor je: Prometni zastoj., Zmanjševanje hitrosti pred mano vozečih vozil.


Zapeljali ste mimo prikazanega prometnega znaka. Kako boste ravnali? (📖 Poglej lekcijo)



- Povečam pozornost in po potrebi zmanjšam hitrost, saj lahko pričakujem prometni zastoj. ✓
- Ni mi treba biti posebej pozoren, saj znak označuje vozila katera smejo voziti po tem vozišču.

Pravilen odgovor je: Povečam pozornost in po potrebi zmanjšam hitrost, saj lahko pričakujem prometni zastoj.


Kaj napoveduje ta prometni znak? (  Poglej lekcijo)



- Prehod ceste čez železniško progo brez zapornic ali polzapornic, ki je enotirna. ✓
- Prepoved prometa v smeri, ki jo označuje ta prometni znak.
- Prepoved parkiranja in ustavitve na obeh robovih ceste.
- Križišče dveh enakovrednih cest.

Pravilen odgovor je: Prehod ceste čez železniško progo brez zapornic ali polzapornic, ki je enotirna.


Vozite proti prikazanem prometnem znaku. Kaj napoveduje? (📖 Poglej lekcijo)



- Prehod za pešce, ki je posebno nevaren.
- Prehod za kolesarje pod ostrim kotom.
- Križišče dveh enakovrednih cest.
- Nezavarovan prehod ceste čez enotirno železniško progo v isti ravnini. ✓

Pravilen odgovor je: Nezavarovan prehod ceste čez enotirno železniško progo v isti ravnini.


Na kaj voznike opozarja prikazani prometni znak? (📖 Poglej lekcijo)



- Na križanje s prednostno cesto.
- Na križanje z železniško progo, ki je dvo- ali več tirna.
- Na križanje z enakovredno cesto.
- Na nezavarovan prehod ceste čez enotirno železniško progo v isti ravnini. ✓

Pravilen odgovor je: Na nezavarovan prehod ceste čez enotirno železniško progo v isti ravnini.


Pripeljali ste do prikazanega prometnega znaka. Na kaj morate biti še posebej pozorni? (📖 Poglej lekcijo)



- Na zapornice oz. polzapornice, ki so odprte ali zaprte.
- Na vlak, če se morda bliža po enem izmed dveh ali več tirov. ✓

Pravilen odgovor je: Na vlak, če se morda bliža po enem izmed dveh ali več tirov.


Na kaj voznike opozarja prikazani prometni znak? (📖 Poglej lekcijo)



- Na križanje z železniško progo, ki je enotirna.
- Na križanje z enakovredno cesto.
- Na prehod ceste z železniško progo v isti ravnini, ki je dvo- ali več tirna in je brez zapornic ali polzapornic. ✓

Pravilen odgovor je: Na prehod ceste z železniško progo v isti ravnini, ki je dvo- ali več tirna in je brez zapornic ali polzapornic.

Na kaj voznike opozarja prikazani prometni znak? (📖 Poglej lekcijo)



- Na križanje z enakovredno cesto.
- Na križanje z železniško progo, ki je enotirna.
- Na križanje s prednostno cesto.
- Na nezavarovan prehod ceste čez železniško progo v isti ravnini, ki je dvo- ali več tira. ✓

Pravilen odgovor je: Na nezavarovan prehod ceste čez železniško progo v isti ravnini, ki je dvo- ali več tira.



Vozite proti prikazanemu prometnemu znaku. Kaj lahko napoveduje? (📖 Poglej lekcijo)



Pravilna sta dva odgovora ali več:

- Vozila, ki so udeležena v prometni nesreči. ✓
- Osebe, ki se nahajajo na mestu prometne nesreče in jo obravnavajo. ✓
- Kolono vozil, ki se ne premika. ✓

Pravilen odgovor je: Kolono vozil, ki se ne premika., Vozila, ki so udeležena v prometni nesreči., Osebe, ki se nahajajo na mestu prometne nesreče in jo obravnavajo.

Zapeljali ste mimo prikazanega prometnega znaka. Kako boste ravnali? (📖 Poglej lekcijo)



Pravilna sta dva odgovora ali več:

- Sem pozoren, da bom pravočasno ustavil, če bo potrebno. ✓
- Vozim v pripravljenosti na odločno dajanje zvočnih in svetlobnih opozorilnih znakov.
- Vozim brezskrbno in nadaljujem pot z isto hitrostjo.
- Vozim previdno in zmanjšam hitrost vožnje. ✓

Pravilen odgovor je: Vozim previdno in zmanjšam hitrost vožnje., Sem pozoren, da bom pravočasno ustavil, če bo potrebno.

Prikazani so štiri prometni znaki za nevarnost. Kateri napoveduje nevaren vzpon? (  Poglej lekcijo)

eCPP.si



**A**



**B**



**C**



**D**

- Prometni znak A. ✓
- Prometni znak B.
- Prometni znak C.
- Prometni znak D.

Pravilen odgovor je: Prometni znak A.

Prikazani so štirje prometni znaki za nevarnost. Kateri napoveduje nevaren klanec navzdol? (📖  
Poglej lekcijo)

eCPP.si



**A**



**B**



**C**



**D**

- Prometni znak A.
- Prometni znak B.
- Prometni znak C.
- Prometni znak D. ✓

Pravilen odgovor je: Prometni znak D.

Prikazani so trije prometni znaki za nevarnost. Za katerim lahko pričakujete, da bo promet potekal po smernem vozišču za nasprotni promet? (  Poglej lekcijo)

eCPP.si



**A**



**B**




**C**

- Za prometnim znakom A. ✓
- Za prometnim znakom B.
- Za prometnim znakom C.

Pravilen odgovor je: Za prometnim znakom A.


Prikazani so trije prometni znaki za nevarnost. Kateri napoveduje prehod ceste čez železniško progo brez zapornic ali polzapornic? (📖 Poglej lekcijo)



- Prometni znak A.
- Prometni znak B. ✓
- Prometni znak C.

Pravilen odgovor je: Prometni znak B.

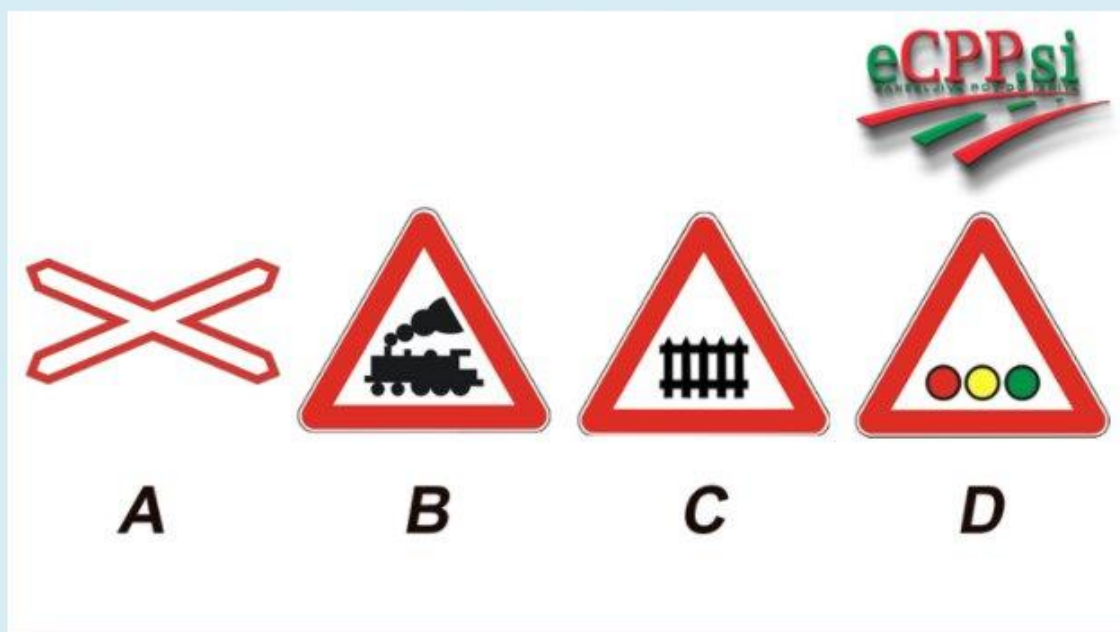
Prikazani so trije prometni znaki za nevarnost. Kateri napoveduje prehod ceste čez železniško progo z zapornicami ali s polzapornicami? (📖 Poglej lekcijo)



- Prometni znak A. ✓
- Prometni znak B.
- Prometni znak C.

Pravilen odgovor je: Prometni znak A.

Prikazani so štiri prometni znaki za nevarnost. Kateri napoveduje prehod ceste čez železniško progo z zapornicami ali s polzapornicami? (📖 Poglej lekcijo)

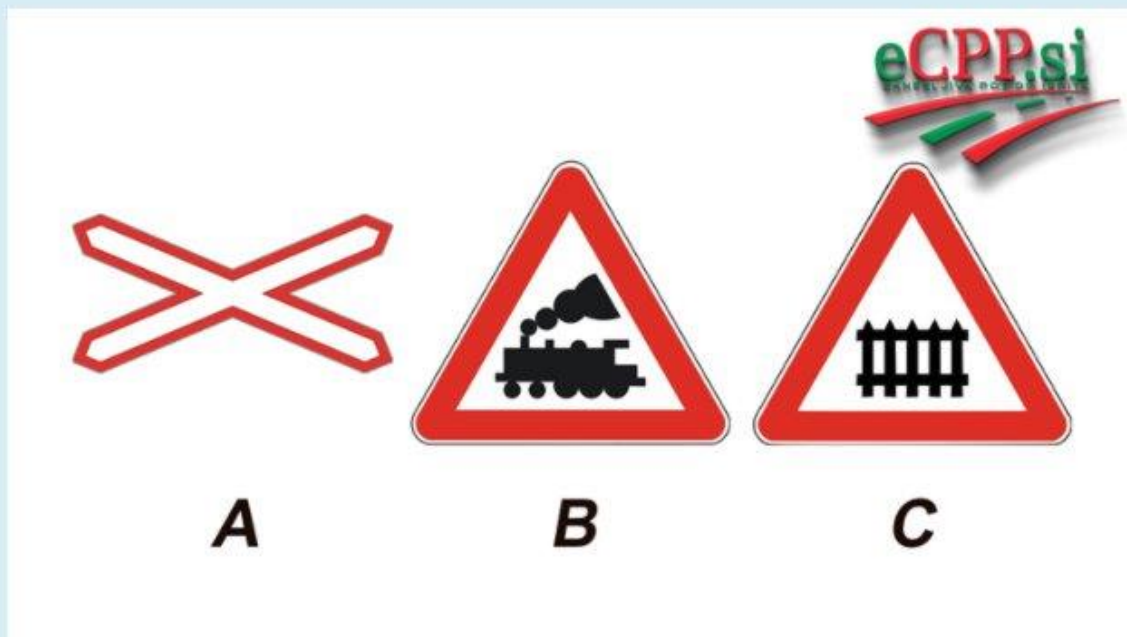


- Prometni znak A.
- Prometni znak B.
- Prometni znak C. ✓
- Prometni znak D.

Pravilen odgovor je: Prometni znak C.




Prikazani so trije prometni znaki za nevarnost. Katera napovedujeta prehod ceste čez železniško progo, ki ni zavarovan z zapornicami ali s polzapornicami? (📖 Poglej lekcijo)



- Prometna znaka A in B. ✓
- Prometna znaka A in C.
- Prometna znaka B in C.

Pravilen odgovor je: Prometna znaka A in B.

Prikazani so štiri prometni znaki. Kateri je praviloma postavljen 150-250 m pred prehodom za pešce zunaj naselja? (  Poglej lekcijo)

eCPP.si



**A**



**B**



**C**

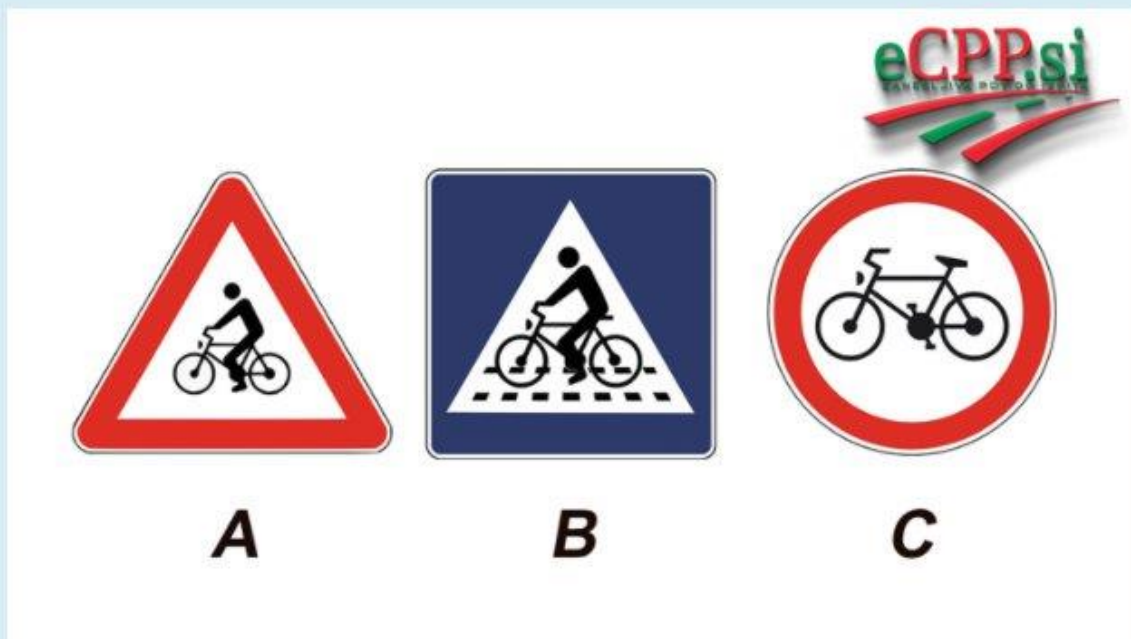


**D**

- Prometni znak A.
- Prometni znak B. ✓
- Prometni znak C.
- Prometni znak D.

Pravilen odgovor je: Prometni znak B.


Prikazani so trije prometni znaki. Kateri napoveduje bližino mesta na vozišču, kjer na vozišče pogosto prihajajo kolesarji? (Poglej lekcijo)



- Prometni znak A. ✓
- Prometni znak B.
- Prometni znak C.

Pravilen odgovor je: Prometni znak A.

Kolikšna je razdalja (izven naselja) od mesta, kjer je prikazan prometni znak postavljen, do mesta, ki ga napoveduje? (📖 Poglej lekcijo)



- 0 m.
- 3 - 10 m. ✓
- 15-55 m.
- 150-250 m.

Pravilen odgovor je: 3 - 10 m.

Kolikšna je razdalja (izven naselja) od mesta, kjer je prikazan prometni znak postavljen, do mesta, ki ga napoveduje? (📖 Poglej lekcijo)



- 0 m.
- 10 m
- 50 m.
- 150-250 m. ✓

Pravilen odgovor je: 150-250 m.


Kolikšna je razdalja (izven naselja) od mesta, kjer je prikazan prometni znak postavljen, do mesta, ki ga napoveduje? (📖 Poglej lekcijo)

eCPP.si



- 0 m.
- 15-50 m.
- 80 m.
- 150-250 m. ✓

Pravilen odgovor je: 150-250 m.

Kolikšna je razdalja (izven naselja) od mesta, kjer je prikazan prometni znak postavljen, do mesta, ki ga napoveduje? (  Poglej lekcijo)



- 0 m. ✓
- 15-50 m.
- 80 m.
- 150-250 m.

Pravilen odgovor je: 0 m.

Kolikšna je razdalja (izven naselja) od mesta, kjer je prikazan prometni znak postavljen, do mesta, ki ga napoveduje? (📖 Poglej lekcijo)



- 0 m.
- 30 m.
- 50 m.
- 150-250 m. ✓

Pravilen odgovor je: 150-250 m.



Kolikšna je razdalja (izven naselja) od mesta, kjer je prikazan prometni znak postavljen, do mesta, ki ga napoveduje? (📖 Poglej lekcijo)



- 0 m.
- 15-30 m.
- 50 m.
- 150-250 m. ✓

Pravilen odgovor je: 150-250 m.

Pripeljali ste do prikazanega prometnega znaka. Kako boste ravnali? (Poglej lekcijo)



- Ustavim v vsakem primeru. Šele ko ni nobenega vozila, zapeljem na prednostno cesto.
- Ker se vključujem v promet na prednostni cesti, ustavim le v primeru, če po prednostni cesti pripelje kakšno vozilo in imam z njim točko možnega trčenja. ✓
- Ker vozim po prednostni cesti, brez ustavitve nadaljujem vožnjo.

Pravilen odgovor je: Ker se vključujem v promet na prednostni cesti, ustavim le v primeru, če po prednostni cesti pripelje kakšno vozilo in imam z njim točko možnega trčenja.

Pripeljali ste do prikazanega prometnega znaka. Kako boste ravnali? (Poglej lekcijo)



- Ne glede na prometno situacijo ustavim.
- Nemudoma odločno pričnem dajati svetlobne in zvočne opozorilne znake.
- Med približevanjem križišču nekoliko zmanjšam hitrost in skrbno opazujem promet. Vožnjo nadaljujem, če nikogar ne oviram. ✓
- Z utripalkami pravilno nakažem željeno smer in vožnjo nadaljujem, ne da bi zmanjšal hitrost.

Pravilen odgovor je: Med približevanjem križišču nekoliko zmanjšam hitrost in skrbno opazujem promet. Vožnjo nadaljujem, če nikogar ne oviram.

Pripeljali ste do prikazanega prometnega znaka. Kako boste ravnali? (Poglej lekcijo)



- Zmanjšam hitrost. Če so na prednostni cesti vozila, jih pustim mimo, saj imajo prednost pred mano. ✓
- V vsakem primeru ustavim. Vožnjo nadaljujem šele takrat, ko ni nobenega vozila, s katerim imam točko možnega trčenja.
- Ne ustavim, saj imam prednost pred vsemi udeleženci cestnega prometa.

Pravilen odgovor je: Zmanjšam hitrost. Če so na prednostni cesti vozila, jih pustim mimo, saj imajo prednost pred mano.

Pripravljali ste do prikazanega prometnega znaka. Kako boste ravnali? (Poglej lekcijo)



- Ustavim le v primeru, če vozi po prednostni cesti vozilo, s katerim imam točko možnega trčenja.
- Nekoliko zmanjšam hitrost in brez, da bi ustavil, zapeljem na prednostno cesto.
- Ustavim v vsakem primeru, ne glede na promet na prednostni cesti. ✓
- Ker je nadaljnja vožnja prepovedana, polkrožno obrnem.


Pravilen odgovor je: Ustavim v vsakem primeru, ne glede na promet na prednostni cesti.

Pripeljali ste do prikazanega prometnega znaka. Kako boste ravnali? (📖 Poglej lekcijo)



- Ustavim v vsakem primeru in nato preverim, če je cesta prosta. ✓
- Energično dajem zvočne in svetlobne opozorilne znake in brez, da bi se ustavil zapeljem na prednostno cesto.
- Prilagodim hitrost vožnje ter preverim levo in desno stran ceste. Če ni vozil, brez ustavitve zapeljem na prednostno cesto.

Pravilen odgovor je: Ustavim v vsakem primeru in nato preverim, če je cesta prosta.

Približujete se prikazanem prometnem znaku. Kako boste ravnali? (  Poglej lekcijo)

eCPP.si



Pravilna sta dva odgovora ali več:

- Vozila iz nasprotne smeri imajo, na delu ceste, kjer se izmenično izvaja enosmerni promet, prednost, zato jih pustim mimo. ✓
- Tik pred prometnim znakom ustavim v vsakem primeru.
- Ker imam prednost pred vozili iz nasprotne smeri ne zmanjšam hitrosti vožnje.
- Nekoliko zmanjšam hitrost vožnje. ✓

Pravilen odgovor je: Nekoliko zmanjšam hitrost vožnje., Vozila iz nasprotne smeri imajo, na delu ceste, kjer se izmenično izvaja enosmerni promet, prednost, zato jih pustim mimo.

Približujete se prikazanem prometnem znaku. Kaj lahko za njim pričakujete? (📖 Poglej lekcijo)


eCPP.si



- Del vozišča, kjer zaradi del izjemoma poteka dvosmerni promet.
- Prepoved vožnje v naši smeri.
- Zoženje vozišča, kjer se izmenično izvaja enosmerni promet in imajo prednost vozila, ki pripeljejo iz nasprotne smeri. ✓
- Zoženje vozišča, kjer vozila iz nasprotne smeri nimajo prednosti.

Pravilen odgovor je: Zoženje vozišča, kjer se izmenično izvaja enosmerni promet in imajo prednost vozila, ki pripeljejo iz nasprotne smeri.




Kolikšna je razdalja prikazanega prometnega znaka od mesta njegove postavitve do mesta, ki ga označuje? (  Poglej lekcijo)

eCPP.si



- 0 m. ✓
- 10 m.
- 150 m.
- 150-250 m.

Pravilen odgovor je: 0 m.


Kolikšna je razdalja prikazanega prometnega znaka od mesta njegove postavitve do mesta, ki ga označuje? (  Poglej lekcijo)

eCPP.si



- 0 m. ✓
- 10 m.
- 100 m.
- 150-250 m.

Pravilen odgovor je: 0 m.


Kolikšna je razdalja prikazanega prometnega znaka od mesta njegove postavitve do mesta, ki ga označuje? (  Poglej lekcijo)

eCPP.si



- 0 m. ✓
- 5 (3-10) m.
- 25 m.
- 150-250 m.

Pravilen odgovor je: 0 m.

Prometni znak na sliki označuje: (  Poglej lekcijo)



- Prednost pred vozili iz nasprotne smeri. ✓
- Obvezno smer vožnje.
- Dvosmerni potek prometa.
- Prednost vozil iz nasprotne strani.

Pravilen odgovor je: Prednost pred vozili iz nasprotne smeri.


Kateri od naštetih voznikov imajo prednost, ko zapeljejo mimo prikazanega prometnega znaka? (📖  
Poglej lekcijo)

eCPP.si



- Vsi vozniki, ki vozijo v smeri bele puščice. ✓
- Nobeden. Prometni znak obvešča le, da je cesta dvosmerna.
- Vsi vozniki, ki vozijo v smeri rdeče puščice.

Pravilen odgovor je: Vsi vozniki, ki vozijo v smeri bele puščice.


Kaj od navedenega označuje prikazani prometni znak? (  Poglej lekcijo)

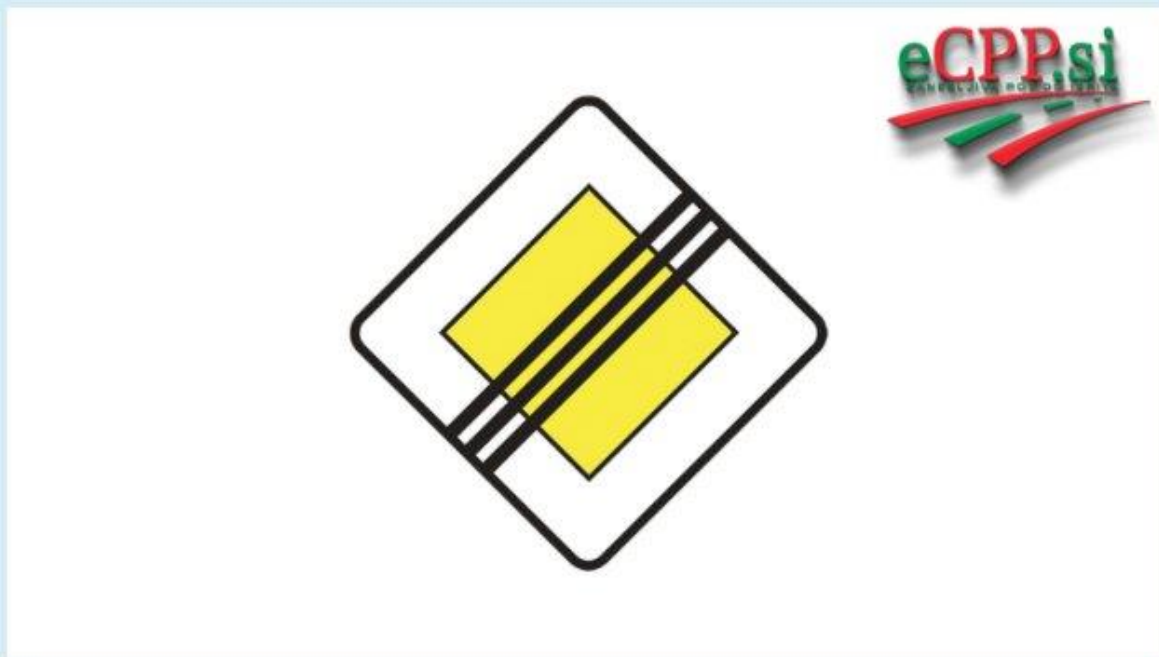
eCPP.si



- Da vozimo po prednostni cesti. ✓
- Da vozimo po neprednostni cesti.
- Da vozimo po enosmerni cesti.
- Da vozimo po dvosmerni cesti.


Pravilen odgovor je: Da vozimo po prednostni cesti.

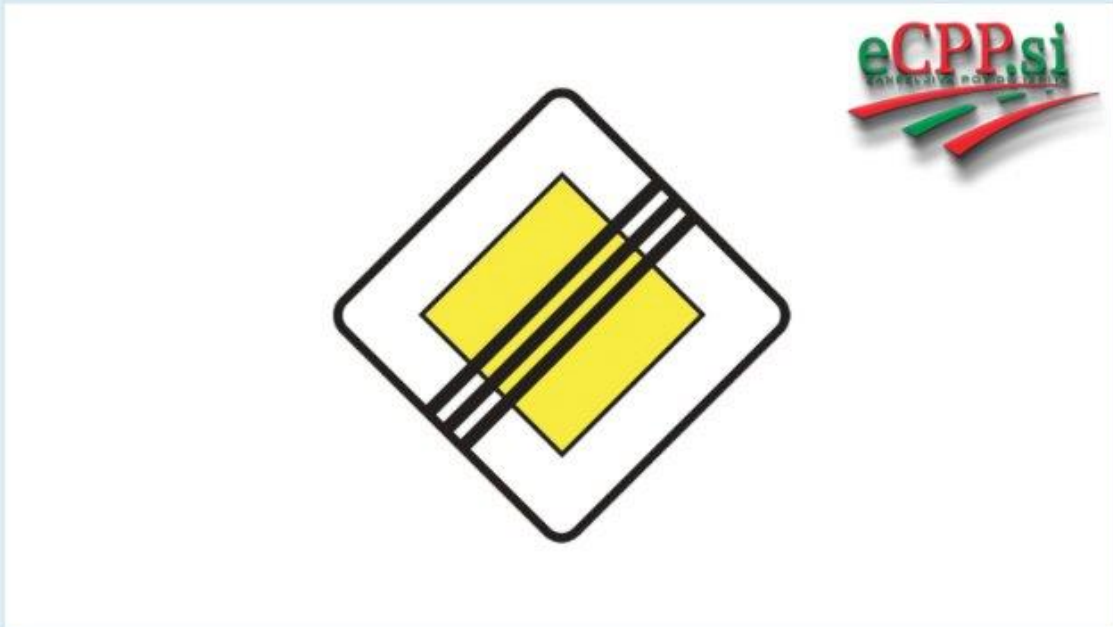
Približujete se prikazanemu prometnemu znaku. Kako ravnate? (  Poglej lekcijo)



- Vožnja naravnost ni dovoljena, zato zapeljem na desno ali na levo.
- Cesta na kateri sem, ni več prednostna, zato previdno nadaljujem vožnjo. ✓
- S prometnim znakom prenehajo vse prepovedi in omejitve, zato vožnjo nadaljujem sproščeno.
- Vožnja naravnost je prepovedana, zato ustavim.

Pravilen odgovor je: Cesta na kateri sem, ni več prednostna, zato previdno nadaljujem vožnjo.

Prikazani prometni znak označuje: (  Poglej lekcijo)

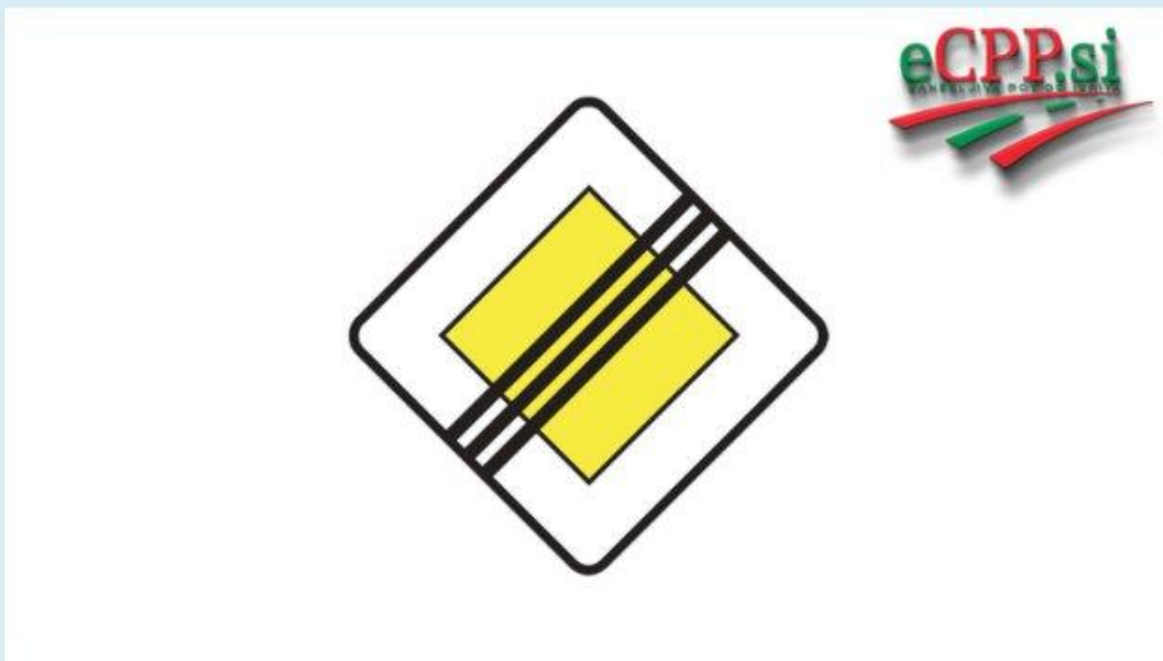


- Mesto na cesti, kjer preneha veljati najvišja dovoljena hitrost vožnje.
- Mesto na cesti, kjer se prednostna cesta konča. ✓
- Mesto, od koder je ponovno dovoljeno prehitevanje enoslednih vozil.
- Mesto na cesti, kjer se končajo vse prepovedi in omejitve.

Pravilen odgovor je: Mesto na cesti, kjer se prednostna cesta konča.





Prikazani prometni znak sporoča: (📖 Poglej lekcijo)



- Prenehanje prepovedi prehitevanja.
- Konec prednostne ceste. ✓
- Konec vseh prepovedi in omejitev.
- Prenehanje najmanjše dovoljene hitrosti.


Pravilen odgovor je: Konec prednostne ceste.


Kateri prometni znak na sliki napoveduje, da imajo vozniki prednost pred vozili iz nasprotne smeri? (  Poglej lekcijo)



- Prometni znak A.
- Prometni znak B. ✓
- Prometni znak C.


Pravilen odgovor je: Prometni znak B.

Kateri prometni znak na sliki opozarja, da imajo prednost vozila iz nasprotne smeri? (  Poglej lekcijo)



- Prometni znak A. ✓
- Prometni znak B.
- Prometni znak C.

Pravilen odgovor je: Prometni znak A.

Katera od naštetih vozil ne smejo nadaljevati vožnjo mimo prikazanega prometnega znaka? (  Poglej lekcijo)



Pravilna sta dva odgovora ali več:

- Tovorna vozila, katerih največja dovoljena masa ne presega 3.500 kg. ✓
- Mopedi. ✓
- Motorna kolesa. ✓
- Osebni avtomobili. ✓

Pravilen odgovor je: Osebni avtomobili., Tovorna vozila, katerih največja dovoljena masa ne presega 3.500 kg., Motorna kolesa., Mopedi.

Kaj pomeni prikazan prometni znak? (📖 Poglej lekcijo)

eCPP.si



- Prepoved vožnje samo vozilom iz smeri, proti kateri je obrnjen ta prometni znak.
- Prepoved vožnje vsem vozilom samo v tej smeri.
- Prepoved prometa vsem vozilom v obeh smereh. ✓
- Prepoved prometa samo motornim vozilom in to v obeh smereh.


Pravilen odgovor je: Prepoved prometa vsem vozilom v obeh smereh.

Kaj pomeni prikazan prometni znak? (📖 Poglej lekcijo)



- Prepoved prometa vsem vozilom v obeh smereh. ✓
- Prepoved prometa samo motornim vozilom in to v obeh smereh.
- Prepoved vožnje samo osebnim avtomobilom in tovornim vozilom.
- Prepoved vožnje v eno smer.

Pravilen odgovor je: Prepoved prometa vsem vozilom v obeh smereh.

Katera od neštetihi vozil ne smejo nadaljevati vožnjo mimo prikazanega prometnega znaka? (  Poglej lekcijo)

eCPP.si



- Samo tovorna vozila, ki prevažajo nevarno blago oz. eksploziv.
- Samo vsa motorna vozila.
- Vsa vozila. ✓
- Samo motorna kolesa in mopedi.

Pravilen odgovor je: Vsa vozila.

Pripeljali ste do križišča. Ali smete zapeljati naravnost v prikazano ulico? (📖 Poglej lekcijo)



- Da.
- Ne, razen če v tej ulici stanujem.
- Ne. ✓
- Da, vendar le z enoslednim motornim kolesom ali mopedom.

Pravilen odgovor je: Ne.



Katerim od neštetihi vozil je prepovedana vožnja mimo prikazanega prometnega znaka? (📖 Poglej lekcijo)



- Samo tovornim vozilom.
- Vsem vozilom. ✓
- Samo motornim vozilom.
- Samo motornim kolesom brez priklopnika.


Pravilen odgovor je: Vsem vozilom.

Ali je dovoljeno, da zapeljete mimo tega prometnega znaka? (📖 Poglej lekcijo)



- Da, vendar samo, če vozim motorno kolo brez stranskega priklopnika.
- Da, vendar tako počasi, kot hodijo pešci.
- Da, če vozim motorno vozilo.
- Ne, ker ta prometni znak prepoveduje vožnjo v tej smeri. ✓

Pravilen odgovor je: Ne, ker ta prometni znak prepoveduje vožnjo v tej smeri.


Vozite moped. Ali smete nadaljevati vožnjo mimo prikazanega prometnega znaka? (  Poglej lekcijo)

eCPP.si



- Ne, ker ta prometni znak prepoveduje nadaljevanje vožnje vsem enoslednim vozilom.
- Da. ✓
- Ne, ker ta prometni znak prepoveduje nadaljevanje vožnje vsem motornim vozilom.

Pravilen odgovor je: Da.

Označite, katerim naštetim vozilom prikazani prometni znak dovoljuje nadaljnjo vožnjo? (  Poglej lekcijo)


eCPP.si



Pravilna sta dva odgovora ali več:

- Osebnim avtomobilom.
- Motornim kolesom brez stranskega priklopnika. ✓
- Vsem motornim vozilom, razen osebnim avtomobilom.
- Mopedom. ✓

Pravilen odgovor je: Motornim kolesom brez stranskega priklopnika., Mopedom.


Označite, katera naštetata vozila za prikazanim prometnim znakom ne smejo nadaljevati vožnje? (  Poglej lekcijo)

eCPP.si



- Samo osebni avtomobili.
- Motorna vozila, razen tovorna vozila.
- Vsa motorna vozila, razen enosledna. ✓
- Vsa motorna vozila.

Pravilen odgovor je: Vsa motorna vozila, razen enosledna.

Označite, katera naštetá vozila, za prikazanim prometnim znakom ne smejo nadaljevati vožnje? (  Poglej lekcijo)



- Osebni avtomobili, vprežna vozila in motorna kolesa.
- Vsa motorna in vprežna vozila. ✓
- Vsa motorna in vprežna vozila, razen tovorna vozila.

Pravilen odgovor je: Vsa motorna in vprežna vozila.

Kaj napoveduje prikazan prometni znak? (📖 Poglej lekcijo)

eCPP.si



- Prepoved prometa vsem vozilom, katerih skupna širina presega 2,2 m. ✓
- Prepoved prometa vsem vozilom, katerih skupna dolžina presega 2,2 m.
- Prepoved prometa vsem vozilom, katerih skupna višina presega 2,2 m.

Pravilen odgovor je: Prepoved prometa vsem vozilom, katerih skupna širina presega 2,2 m.

Kaj pomeni vsebina, ki je označena na prikazanem prometnem znaku? (📖 Poglej lekcijo)

eCPP.si



- 2,2 metra je širina prometnega pasu vozišča.
- 2,2 metra je širina ceste brez utrjenih bankin.
- Najmanjšo dovoljeno varnostno razdaljo.
- Prepovedan promet za vozila, pri katerih skupna širina presega 2,2 metra. ✓

Pravilen odgovor je: Prepovedan promet za vozila, pri katerih skupna širina presega 2,2 metra.



Kaj pomeni vsebina, ki je označena na prikazanem prometnem znaku? (📖 Poglej lekcijo)

eCPP.si



- Varnostna razdalje med vozili ne sme biti manjša od 2,2 metra.
- Višina mesta, na katerem se najvišje lahko pritrdi registrska tablica motornega vozila.
- Vožnjo po tem vozišču lahko nadaljujejo samo motorna vozila, ki so višja od 2,2 metra.
- Prepovedan promet za vozila, pri katerih skupna višina presega višino 2,2 metra. ✓

Pravilen odgovor je: Prepovedan promet za vozila, pri katerih skupna višina presega višino 2,2 metra.

Označite pomen tega prometnega znaka. (📖 Poglej lekcijo)

eCPP.si



- Prepoved prometa za vozila ali skupine vozil, ki presegajo določeno skupno dolžino, označeno na znaku. ✓
- Prepoved prometa za vozila, katerih skupna masa presega maso, označeno na znaku.
- Prepoved prometa samo za tovorna vozila z večjo dolžino, kot je navedena na znaku.

Pravilen odgovor je: Prepoved prometa za vozila ali skupine vozil, ki presegajo določeno skupno dolžino, označeno na znaku.

Približujete se prikazanem prometnem znaku. Kaj napoveduje? (📖 Poglej lekcijo)



- Konec oz. zaključek ovinka na desno.
- Prepoved zavijanja na desno. ✓
- Polkrožno obračanje ni dovoljeno.
- Nevaren ovinek na desno.

Pravilen odgovor je: Prepoved zavijanja na desno.

Na drogu semaforja je nameščen prometni znak za izrecne odredbe. Kaj napoveduje? (📖 Poglej lekcijo)



- Vzratno vožnjo po vozišču v obeh smereh.
- Prepoved polkrožnega obračanja. ✓
- Obvezo zavijanja na levo.
- Bližino krožnega križišča.

Pravilen odgovor je: Prepoved polkrožnega obračanja.

Prikazan prometni znak prepoveduje prehitevanje. Katera od navedenih vozil pa vendarle smemo prehiteti za tem prometnim znakom? (📖 Poglej lekcijo)

eCPP.si



Pravilna sta dva odgovora ali več:

- Tovorna vozila in avtobuse.
- Motorna kolesa brez stranskega priklopnika. ✓
- Mopede. ✓
- Osebne avtomobile.


Pravilen odgovor je: Motorna kolesa brez stranskega priklopnika., Mopede.

Zapeljali boste mimo prikazanega prometnega znaka. Kaj napoveduje? (📖 Poglej lekcijo)



- Prepoved prehitevanja vseh (dvo- in trislednih) motornih vozil, razen enoslednih. ✓
- Prepoved prehitevanja mopedov, koles in motornih koles.
- Prepoved prehitevanja vseh vozil.
- Prepoved prehitevanja samo osebnih avtomobilov.

Pravilen odgovor je: Prepoved prehitevanja vseh (dvo- in trislednih) motornih vozil, razen enoslednih.

Približujete se prikazanem prometnem znaku. S kolikšno najvišjo hitrostjo smete voziti od znaka naprej? (  Poglej lekcijo)



- 40 km/h. ✓
- 40 km/h, razen pri prehitevanju delovnih strojev.
- 40 km/h, razen pri prehitevanju kolesarjev.

Pravilen odgovor je: 40 km/h.

Zapeljali boste mimo prikazanega prometnega znaka. S koliko hitrostjo smete voziti? (📖 Poglej lekcijo)



- Z najmanj 70 km/h, saj to zapoveduje prometni znak.
- Z največ 70 km/h, razen če bom prehitel tovorno vozilo.
- Z največ 70 km/h. ✓

Pravilen odgovor je: Z največ 70 km/h.



Kaj vam, za tisto stran ceste, ki jo označuje, sporoča prikazani prometni znak? (📖 Poglej lekcijo)



- Prepoveduje ustavitev in parkiranje. ✓
- Prepoveduje samo parkiranje.
- Prepoveduje samo ustavitev.

Pravilen odgovor je: Prepoveduje ustavitev in parkiranje.

Kaj vam, za tisto stran ceste, ki jo označuje, sporoča prikazani prometni znak? (📖 Poglej lekcijo)




- Prepoveduje samo ustavitev.
- Prepoveduje samo parkiranje. ✓
- Prepoveduje ustavitev in parkiranje.

Pravilen odgovor je: Prepoveduje samo parkiranje.

Katera od oblik in barv prometnih znakov na sliki označuje prepoved? (📖 Poglej lekcijo)

eCPP.si



**A**



**B**



**C**



**D**

- Prometnega znaka A.
- Prometnega znaka B.
- Prometnega znaka C. ✓
- Prometnega znaka D.

Pravilen odgovor je: Prometnega znaka C.

Promet za vsa vozila je prepovedan mimo: (📖 Poglej lekcijo)

eCPP.si



**A**



**B**



**C**




**D**

Pravilna sta dva odgovora ali več:

- Prometnega znaka A. ✓
- Prometnega znaka B. ✓
- Prometnega znaka C.
- Prometnega znaka D.

Pravilen odgovor je: Prometnega znaka A., Prometnega znaka B.

Pripeljali ste do prikazanega prometnega znaka. Na kakšni razdalji pred prepovedjo, ki jo označuje, je postavljen? (  Poglej lekcijo)

eCPP.si



- 0 m. ✓
- 5 m.
- 100 m.
- 150-250 m.

Pravilen odgovor je: 0 m.

Pripeljali ste do prikazanega prometnega znaka. Na kakšni razdalji pred omejitvijo, ki jo označuje, je postavljen? (Poglej lekcijo)

eCPP.si



- 0 m. ✓
- 10 m.
- 70 m.
- 150-250 m.

Pravilen odgovor je: 0 m.

Pripeljali ste do prikazanega prometnega znaka. Na kakšni razdalji pred prepovedjo, ki jo označuje, je postavljen? ([📖 Poglej lekcijo](#))

eCPP.si



- 0 m. ✓
- 25 m.
- 100 m.
- 150-250 m.

Pravilen odgovor je: 0 m.

Zapeljali boste mimo prikazanega prometnega znaka. Katera vozila od navedenih, boste lahko prehiteli? (📖 Poglej lekcijo)

eCPP.si



- Le osebne avtomobile.
- Vsa vozila. ✓
- Le tovorna vozila s priklopniki.
- Le avtobuse.

Pravilen odgovor je: Vsa vozila.



Približujete se prikazanem prometnem znaku. Kaj pomeni? (📖 Poglej lekcijo)

eCPP.si



- Prenehanje prepovedi prehitevanja vseh motornih vozil, razen enoslednih. ✓
- Prenehanje vseh prepovedi in omejitev.
- Prepovedan promet za osebne avtomobile.

Pravičen odgovor je: Prenehanje prepovedi prehitevanja vseh motornih vozil, razen enoslednih.

Kateri prometni znak na sliki prekliče omejitve hitrosti 40 km/h? (📖 Poglej lekcijo)



**A**



**B**



**C**



**D**

Pravilna sta dva odgovora ali več:

- Prometni znak A. ✓
- Prometni znak B.
- Prometni znak C. ✓
- Prometni znak D.

Pravilen odgovor je: Prometni znak A., Prometni znak C.

Približujete se prikazanemu križišču. Kako boste ravnali? (📖 Poglej lekcijo)



Pravilna sta dva odgovora ali več:

- Pri uvozu na križišče obvezno vklopim utripalke na desni strani vozila.
- Če nikogar ne oviram, brez ustavitve zapeljem na križišče. ✓
- Prometni znaki me obvezujejo, da ustavim pred krožnim križiščem.
- Na križišče se vedno vključim na desno. ✓

Pravilen odgovor je: Če nikogar ne oviram, brez ustavitve zapeljem na križišče., Na križišče se vedno vključim na desno.

Zapeljali boste mimo prikazanega prometnega znaka. S kakšno hitrostjo morate voziti v normalnih okoliščinah? (📖 Poglej lekcijo)

eCPP.si



- Prosto izberem hitrost, saj je hitrost, ki je vpisana na prometnem znaku, samo priporočena.
- Najmanj za polovico manjšo hitrostjo od označene na prometnem znaku.
- Z nekoliko zmanjšano, kot je označena na prometnem znaku.
- Najmanj s hitrostjo, ki je označena na prometnem znaku. ✓

Pravilen odgovor je: Najmanj s hitrostjo, ki je označena na prometnem znaku.

Približujete se prikazanem prometnem znaku. Kakšno hitrost vožnje označuje? (📖 Poglej lekcijo)

eCPP.si



- Najvišjo dovoljeno.
- Povprečno.
- Najmanjšo dovoljeno. ✓
- Priporočeno.

Pravilen odgovor je: Najmanjšo dovoljeno.

Približujete se prikazanem prometnem znaku. Kako boste ravnali? (📖 Poglej lekcijo)



- Nadaljnja vožnja je prepovedana, zato polkrožno obrnem.
- Na križišču zapeljem naravnost. ✓
- Pri prometnem znaku ustavim, preden nadaljujem vožnjo.
- Odstopim prednost vsem vozilom, tudi iz nasprotne smeri, saj imajo prednost.

Pravilen odgovor je: Na križišču zapeljem naravnost.

Približujete se prometnemu znaku na sliki. Kaj označuje? (📖 Poglej lekcijo)



- Obvezno smer vožnje. ✓
- Prepoved parkiranja v smeri puščice.
- Cesto, ki je enosmerna.

Pravilen odgovor je: Obvezno smer vožnje.

Prikazan prometni znak označuje: (📖 Poglej lekcijo)

eCPP.si



- Na desno je prepovedano zaviti.
- Obvezo vožnje mimo sredinskega otoka na vozišču, po desni strani.
- Obvezno smer vožnje. ✓
- Da je cesta enosmerna.

Pravilen odgovor je: Obvezno smer vožnje.




Vožnjo želite nadaljevati mimo prikazanega prometnega znaka. Kako ravnate? (📖 Poglej lekcijo)

eCPP.si



- Ker je vožnja na desno prepovedana, jo nadaljujem naravnost.
- Na desni strani ceste ustavim oz. parkiram.
- Zapeljem v označeno smer in nadaljujem vožnjo. ✓
- Na desni strani vozišča moram v vsakem primeru ustaviti.

Pravilen odgovor je: Zapeljem v označeno smer in nadaljujem vožnjo.

Označite, kakšen je pomen prikazanega prometnega znaka. (  Poglej lekcijo)

eCPP.si



- Obvezna smer. ✓
- Prepovedana vožnja na desno.
- Enosmerno vozišče.
- Priporočena smer zavijanja.

Pravilen odgovor je: Obvezna smer.

Približujete se prikazanem prometnem znaku. V katere smeri vam je vožnja dovoljena? (📖 Poglej lekcijo)

eCPP.si



- Zapeljem lahko le na levo.
- Zapeljem lahko na levo in naravnost.
- Zapeljem lahko na desno in naravnost. ✓
- Zapeljem lahko le na desno.

Pravilen odgovor je: Zapeljem lahko na desno in naravnost.

Približujete se prikazanem prometnem znaku. Kaj označuje? (  Poglej lekcijo)



- Smeri, v katere lahko zapeljem. ✓
- Smeri, kjer vožnja ni dovoljena.
- Smeri, kjer je dovoljena vožnja le osebnim avtomobilom.

Pravilen odgovor je: Smeri, v katere lahko zapeljem.

Katera ravnanja z vozilom dovoljuje prikazani prometni znak? (  Poglej lekcijo)

eC**PP**.si



Pravilna sta dva odgovora ali več:

- Zapeljati smem na desno. ✓
- Zapeljati smem naravnost. ✓
- Zapeljati smem na levo.


Pravilen odgovor je: Zapeljati smem na desno., Zapeljati smem naravnost.

Na sliki prikazani prometni znak izraža obveznost. Katero? (📖 Poglej lekcijo)



- Da moram voziti mimo po levi strani.
- Da moram ustaviti na desni strani vozišča.
- Da moram zaviti na desno.
- Da moram voziti mimo po desni strani. ✓

Pravilen odgovor je: Da moram voziti mimo po desni strani.

Približujete se prikazanem prometnem znaku. Kako morate ravnati? (  Poglej lekcijo)

eCPP.si



- Parkiram na levi strani vozišča.
- Obvezno vozim po levi strani mimo objekta na vozišču. ✓
- Za tem prometnim znakom zavijem na levo.
- Ustavim pred tem prometnim znakom.

Pravilen odgovor je: Obvezno vozim po levi strani mimo objekta na vozišču.

Približujete se prikazanemu križišču. Kako ravnate zaradi modrega prometnega znaka z belimi puščicami? (📖 Poglej lekcijo)



- Ko ne oviram vozil na krožnem križišču, ki imajo prednost, zapeljem na desno. ✓
- Zmanjšam hitrost in polkrožno obrnem.
- Vkllopim utripalke na levi strani vozila.
- Z zvočnimi opozorilnimi znaki opozarjam udeležence cestnega prometa, da mi omogočijo vključevanje.

Pravilen odgovor je: Ko ne oviram vozil na krožnem križišču, ki imajo prednost, zapeljem na desno.



Kaj sporoča prikazani prometni znak? (📖 Poglej lekcijo)

eCPP.si



- Obveznost zpuščanja križišča s krožnim prometom.
- Označuje križišče s krožnim prometom. ✓
- Približevanje delu ceste, kjer običajno piha močan krožni veter.

Pravilen odgovor je: Označuje križišče s krožnim prometom.

Kateri od prikazanih prometnih znakov vas obvezuje, da morate zaviti na desno? (📖 Poglej lekcijo)



**A**



**B**




**C**



**D**

- Prometni znak A.
- Prometni znak B.
- Prometni znak C. ✓
- Prometni znak D.

Pravilen odgovor je: Prometni znak C.

Mimo katerih prikazanih prometnih znakov je prepovedano nadaljevanje vožnje? (  Poglej lekcijo)

eCPP.si



**A**



**B**



**C**



**D**

- Mimo prometnega znaka A. ✓
- Mimo prometnega znaka B.
- Mimo prometnega znaka C.
- Mimo prometnega znaka D.

Pravilen odgovor je: Mimo prometnega znaka A.

Za katerim prometnim znakom na sliki, v normalnih okoliščinah ne smete voziti z manjšo hitrostjo, od vpisane v prometnem znaku? (📖 Poglej lekcijo)



**A**



**B**



**C**



**D**

- Za prometnim znakom A.
- Za prometnim znakom B.
- Za prometnim znakom C.
- Za prometnim znakom D. ✓

Pravilen odgovor je: Za prometnim znakom D.

Kateri prikazani prometni znak označuje najmanjšo dovoljeno hitrost? (📖 Poglej lekcijo)

eCPP.si



**A**



**B**



**C**

- Prometni znak A.
- Prometni znak B.
- Prometni znak C. ✓

Pravilen odgovor je: Prometni znak C.

Prikazani prometni znak označuje: (📖 Poglej lekcijo)



- Prepoved prometa za kolesarje.
- Konec kolesarske poti ali steze. ✓
- Prepoved parkiranja in odstavljanja koles ob desnem robu vozišča.
- Prenehanje obvezne smeri prometa za kolesarje.

Pravilen odgovor je: Konec kolesarske poti ali steze.

Prikazan prometni znak je pomemben tudi za voznike motornih vozil. Ali ta trditev drži? (📖 Poglej lekcijo)

eCPP.si



- Da, ker se za prometnim znakom konča kolesarska steza ali pot in bodo kolesarji najverjetneje zapeljali na vozišče. ✓
- Ne, saj ravnanja kolesarjev za tem prometnim znakom nimajo vpliva na vožnjo voznikov motornih vozil.

Pravilen odgovor je: Da, ker se za prometnim znakom konča kolesarska steza ali pot in bodo kolesarji najverjetneje zapeljali na vozišče.

Ko opazite ta prometni znak na desni strani vozišča, lahko pričakujete: (📖 Poglej lekcijo)



- Kolesarje, ki bodo zapeljali na vozišče, saj je konec kolesarske steze. ✓
- Urejen prostor za parkiranje koles ob vozišču.
- Promet brez kolesarjev, ker jim prometni znak prepoveduje nadaljnjo vožnjo.

Pravilen odgovor je: Kolesarje, ki bodo zapeljali na vozišče, saj je konec kolesarske steze.



Prikazani prometni znak označuje: (📖 Poglej lekcijo)

eCPP.si



- Obvezo uporabo pločnika za pešce desno in kolesarje levo.
- Prepovedan nadaljnji promet za kolesarje in pešce.
- Konec pasov za pešce in kolesarje. ✓

Pravilen odgovor je: Konec pasov za pešce in kolesarje.

Kateri prometni znak na sliki označuje enosmerno cesto? (📖 Poglej lekcijo)

eCPP.si



**A**



**B**



**C**

- Prometni znak A.
- Prometni znak B. ✓
- Prometni znak C.

Pravilen odgovor je: Prometni znak B.

Pripeljali ste do prikazanega prometnega znaka. O čem vas obvešča? (📖 Poglej lekcijo)



- Da je na cesti ovira in o smeri obvezne vožnje mimo.
- Da je obvezna vožnja vseh vozil naravnost.
- O tem, kako se naj razvrstim pred bližajočim se križiščem.
- Da je cesta enosmerna. ✓

Pravilen odgovor je: Da je cesta enosmerna.

Kaj od navedenega označuje prikazani prometni znak? (📖 Poglej lekcijo)

eCPP.si



- Smer vožnje za vsa motorna vozila.
- Cesta, po kateri vozimo, je enosmerna. ✓
- Cesta, po kateri vozimo, je dvosmerna.
- Cesta, po kateri vozimo, je prednostna.


Pravilen odgovor je: Cesta, po kateri vozimo, je enosmerna.

Pripeljali ste do prikazanega prometnega znaka. Kaj označuje? (📖 Poglej lekcijo)



- Osvetljeno dvosmerno kolesarsko pot.
- Enosmerno kolesarsko stezo.
- Prehod za pešce, po katerem kolesarji ne smejo voziti.
- Samostojni prehod za kolesarje. ✓

Pravilen odgovor je: Samostojni prehod za kolesarje.

Približujete se prikazanem prometnem znaku. Kako ravnate? (  Poglej lekcijo)



Pravilna sta dva odgovora ali več:

- Povečam pozornost. ✓
- Prilagodim hitrost vožnje tako, da po potrebi lahko pred preходом varno ustavim. ✓
- Na svojo prisotnost opozarjam kolesarje z dajanjem zvočnih opozorilnih znakov podnevi in svetlobnih ponoči.
- Povečam hitrost, da čim prej prevozim nevarno mesto na vozišču.

Pravilen odgovor je: Povečam pozornost., Prilagodim hitrost vožnje tako, da po potrebi lahko pred preходом varno ustavim.

Približujete se prikazanemu prometnem znaku. Kako ravnate? (📖 Poglej lekcijo)



Pravilna sta dva odgovora ali več:

- Hitrost vožnje prilagodim tako, da po potrebi lahko pred preходом varno ustavim. ✓
- Sem posebej pozoren na ravnanja kolesarjev. ✓
- Ta prometni znak je namenjen samo kolesarjem, zato z nezmanjšano hitrostjo nadaljujem vožnjo.
- Z zvočnimi opozorilnimi znaki opozarjam bližnje kolesarje, da me ne bi spregledali.

Pravilen odgovor je: Sem posebej pozoren na ravnanja kolesarjev., Hitrost vožnje prilagodim tako, da po potrebi lahko pred preходом varno ustavim.

Približujete se prikazanem prometnem znaku. Kako ravnate? ([Poglej lekcijo](#))

eCPP.si



Pravilna sta dva odgovora ali več:

- Vozim posebno previdno, če so ob prehodu pešci. ✓
- Kadar je pešec na prehodu ali stopa nanj, ustavim. ✓
- Pred prehodom za pešce moram vedno ustaviti.
- Vozim z nezmanjšano hitrostjo, saj prometni znak označuje mesto osvetljenega podzemnega prehoda za pešce.

Pravilen odgovor je: Kadar je pešec na prehodu ali stopa nanj, ustavim., Vozim posebno previdno, če so ob prehodu pešci.



Približujete se prikazanem prometnem znaku. Kaj označuje? (📖 Poglej lekcijo)



- Ime najpomembnejše ceste v tem kraju.
- Naselje, skozi katerega vodi cesta in od koder naprej veljajo pravila vožnje. ✓
- Naseljeno območje, po obrobju katerega je ta cesta speljana.

Pravilen odgovor je: Naselje, skozi katerega vodi cesta in od koder naprej veljajo pravila vožnje.

Kaj napoveduje prikazani prometni znak? (📖 Poglej lekcijo)

eCPP.si



- Mesto zunaj naselja, od koder je treba voziti najmanj s hitrostjo označeno na prometnem znaku.
- Območje v naselju, kjer je parkiranje časovno omejeno na največ 30 minut.
- Mesto v naselju, kjer se konča območje, ki je namenjeno pešcem.
- Mesto v naselju, od koder se začne območje, v katerem je hitrost omejena na 30 km/h. ✓

Pravilen odgovor je: Mesto v naselju, od koder se začne območje, v katerem je hitrost omejena na 30 km/h.

Katero mesto v naselju je označeno s prikazanim prometnim znakom? (📖 Poglej lekcijo)

eCPP.si



- Mesto konca območja, kjer je časovno omejeno parkiranje.
- Mesto konca območja omejene hitrosti. ✓
- Mesto konca območja za pešce.
- Mesto prenehanja vseh prepovedi in omejitev.

Pravilen odgovor je: Mesto konca območja omejene hitrosti.


Z motornim vozilom ste pripeljali do prikazanega prometnega znaka. Ali smete nadaljevati vožnjo? ( [Poglej lekcijo](#))

eCPP.si



- Da, vendar le tako hitro, kot hodijo pešci.
- Ne. ✓
- Da, vendar samo s hitrostjo največ 30 km/h.

Pravilen odgovor je: Ne.

Pripeljali ste do prikazanega prometnega znaka. Kako boste ravnali pri nadaljevanju vožnje? (  Poglej lekcijo)



Pravilna sta dva odgovora ali več:

- Še posebej bom pozoren na otroke na ali ob vozišču. ✓
- Ne presežem hitrosti 10 km/h. ✓
- Vozim s hitrostjo, ki ne sme presegati 30 km/h.
- Vkloupim varnostne utripalke.

Pravilen odgovor je: Še posebej bom pozoren na otroke na ali ob vozišču., Ne presežem hitrosti 10 km/h.

Vozite motorno vozilo. Ali smete zapeljati mimo prikazanega prometnega znaka? (📖 Poglej lekcijo)

eCPP.si



- Da, vendar previdno in s hitrostjo, ki ne sme presegati 10 km/h. ✓
- Ne, saj se neposredno za prometnim znakom začneja cona za pešce.
- Da, vendar le z malce zmanjšano hitrostjo, ker je v bližini otroško igrišče.
- Ne, ker je v tem področju prepovedana vožnja vsem vozilom.

Pravilen odgovor je: Da, vendar previdno in s hitrostjo, ki ne sme presegati 10 km/h.

Prometni znak na sliki označuje: (📖 Poglej lekcijo)

eCPP.si



- Mesto v naselju, kjer se začinja območje, prepovedano za parkiranje oziroma območje z dopustnim kratkotrajnim parkiranjem. ✓
- Mesto, od koder se začinja območje, kjer je prepovedano parkirati in ustaviti.
- Mesto, od koder se začinja območje omejene hitrosti.

Pravilen odgovor je: Mesto v naselju, kjer se začinja območje, prepovedano za parkiranje oziroma območje z dopustnim kratkotrajnim parkiranjem.

Kateri prometni znak na sliki označuje konec območja kratkotrajnega parkiranja? (📖 Poglej lekcijo)

eCPP.si



**A**



**B**



**C**



**D**

- Prometni znak A. ✓
- Prometni znak B.
- Prometni znak C.
- Prometni znak D.

Pravilen odgovor je: Prometni znak A.



Kateri izmed prikazanih prometnih znakov je postavljen pri prehodu za pešce? (📖 Poglej lekcijo)

eCPP.si



**A**



**B**




**C**



**D**

- Prometni znak A.
- Prometni znak B.
- Prometni znak C. ✓
- Prometni znak D.

Pravilen odgovor je: Prometni znak C.

Kateri izmed prikazanih prometnih znakov označuje prehod za kolesarje? (  Poglej lekcijo)



**A**



**B**




**C**

- Prometni znak A.
- Prometni znak B.
- Prometni znak C. ✓

Pravilen odgovor je: Prometni znak C.

Kateri prometni znak na sliki prepoveduje nadaljnjo vožnjo? (📖 Poglej lekcijo)



**A**



**B**



**C**



**D**

- Prometni znak A.
- Prometni znak B.
- Prometni znak C.
- Prometni znak D. ✓

Pravilen odgovor je: Prometni znak D.

Kateri prikazan prometni znak napoveduje prometni pas, na katerega morajo zapeljati počasna vozila? (📖 Poglej lekcijo)

eCPP.si



**A**




**B**

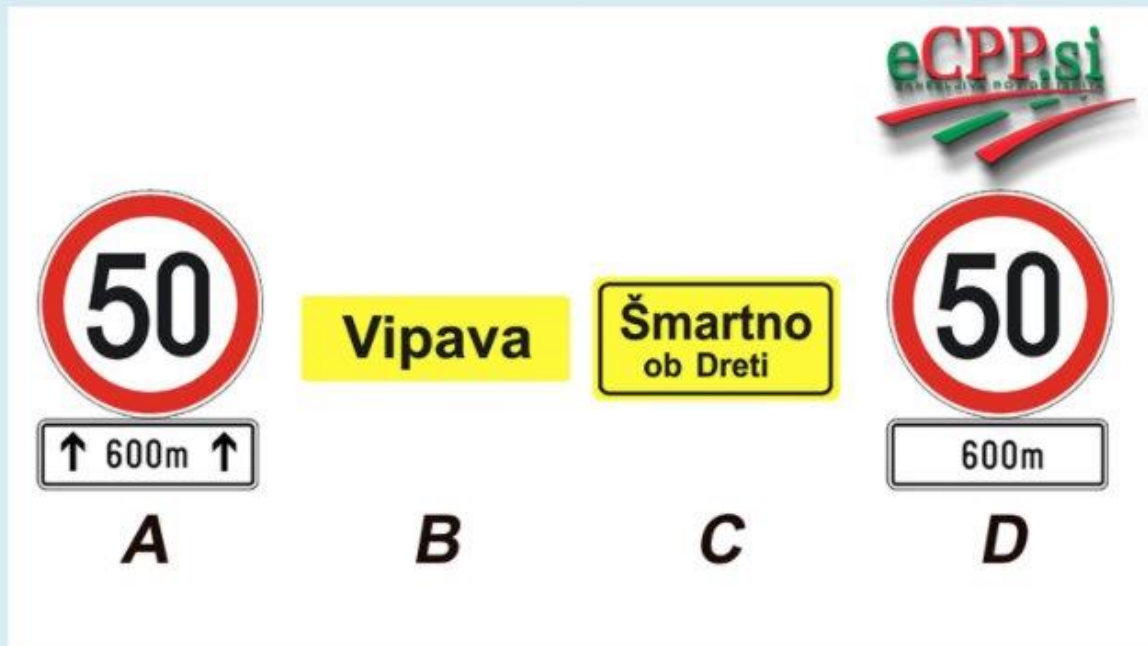


**C**

- Prometni znak A.
- Prometni znak B.
- Prometni znak C. ✓

Pravilen odgovor je: Prometni znak C.

Kateri prikazani prometni znak sporoča, da je največja dovoljena hitrost skozi celo naselje omejena na 50 km/h? (  Poglej lekcijo)



- Prometni znak A.
- Prometni znak B.
- Prometni znak C. ✓
- Prometni znak D.

Pravilen odgovor je: Prometni znak C.